

Miejski konkurs geograficzny
„Poznaj mapę świata” 2014r. Etap szkolny



Zestaw zawiera **12 zadań**, większość z nich odnosi się do map, przeczytaj uważnie polecenie, na rozwiązanie masz **45 minut**, powodzenia!

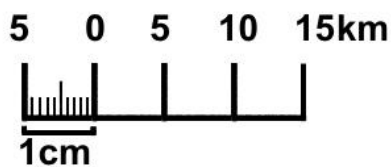
Zadanie 1 (1pkt)

Z trzech map hipsometrycznych Polski wykonanych w skalach 1: 1 250 000, 1: 2 250 000, 1: 25 000 najbardziej uogólniony obraz przedstawia mapa w skali: Zaznacz kółkiem poprawną odpowiedź.

- a) 1: 25 000
- b) 1: 2 500 000
- c) 1: 1 250 000

Zadanie 2 (2pkt)

Na mapie odległość pomiędzy punktami A i B wynosi 2,5cm. W legendzie mapy znajduje się następujący rysunek:

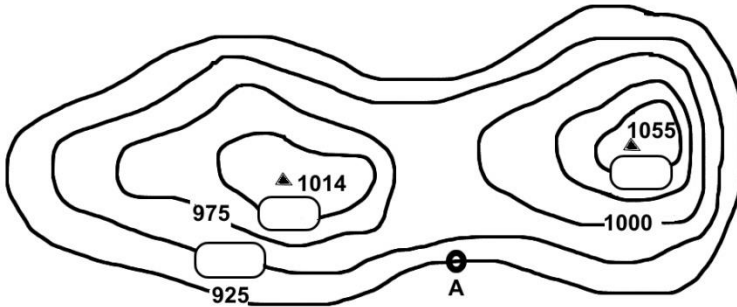


Oblicz rzeczywistą odległość pomiędzy punktami A i B.

Odp:.....

Zadanie 3: (3pkt)

Rysunek poziomicowy przedstawia 2 szczyty górskie. Turysta znajduje się w punkcie oznaczonym kółkiem i literą A. Wpisz w prostokąty 3 brakujące wartości poziomicy. Oblicz wysokość względną pomiędzy turystą a **zachodnim** szczytem. Wskaż turystyce strzałkami **łatwiejszą drogę** na wyższy szczyt.

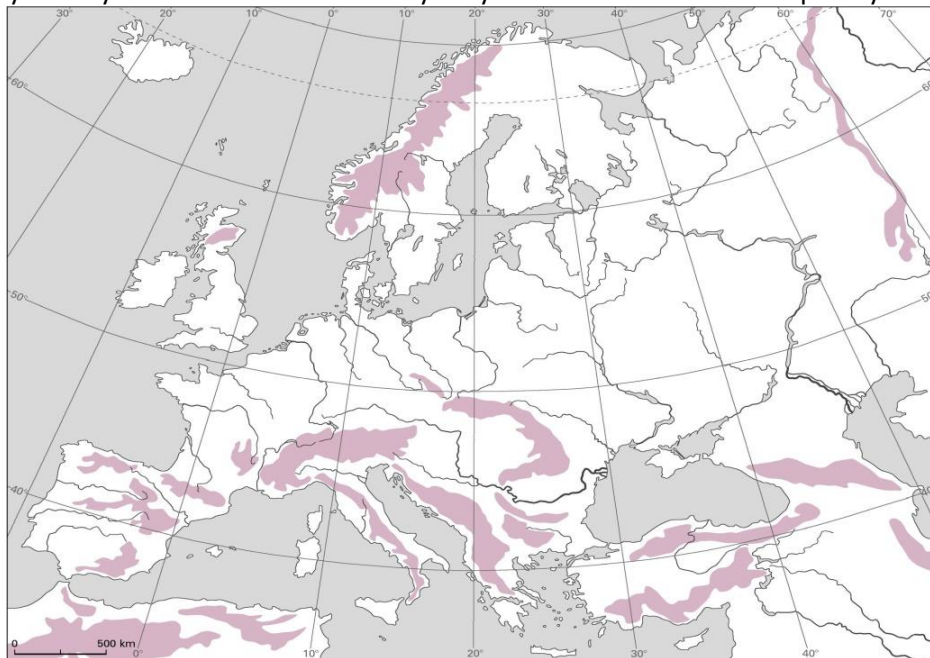


Wysokość względna wynosi:.....

Zadanie 4 (6pkt)

Na mapie Europy ciemniejszym kolorem zaznaczono pasma górskie. W odpowiednie miejsca na mapie wpisz cyfry przyporządkowane właściwym górom.

- | | | |
|-----------------------|-------------------|-------------|
| 1. Alpy | 2. Góry Dynarskie | 3. Pireneje |
| 4. Góry Skandynawskie | 5. Góry Betyckie | 6. Apeniny |



Zadanie 5 (3pkt)

Na mapie świata literami od A do C zaznaczono cieśniny. Rozpoznaj je.

A – Cieśnina

B – Cieśnina

C – Cieśnina

Zadanie 6 (5pkt)

Na mapie świata cyframi od 1 do 5 zaznaczono morza. Rozpoznaj je.

1 – Morze

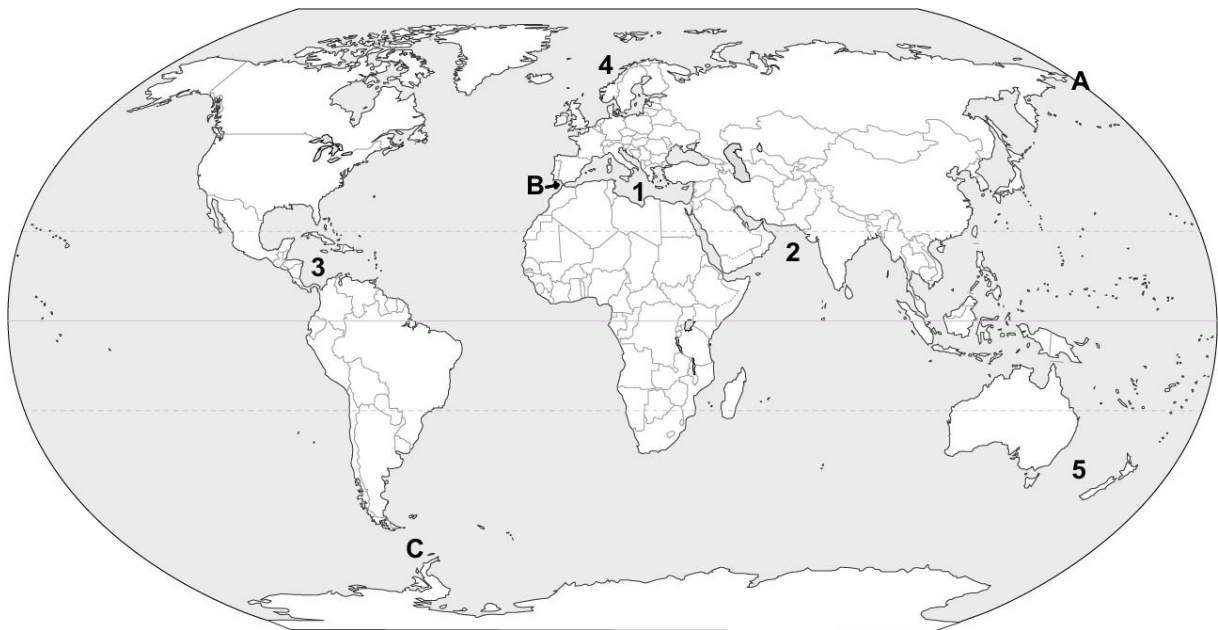
2 – Morze

3 – Morze

4 – Morze

5 – Morze

Mapka do zadań 5 i 6



Zadanie 7 (5pkt)

Na mapie literami od A do E zaznaczono niziny lub kotliny, rozpoznaj je.

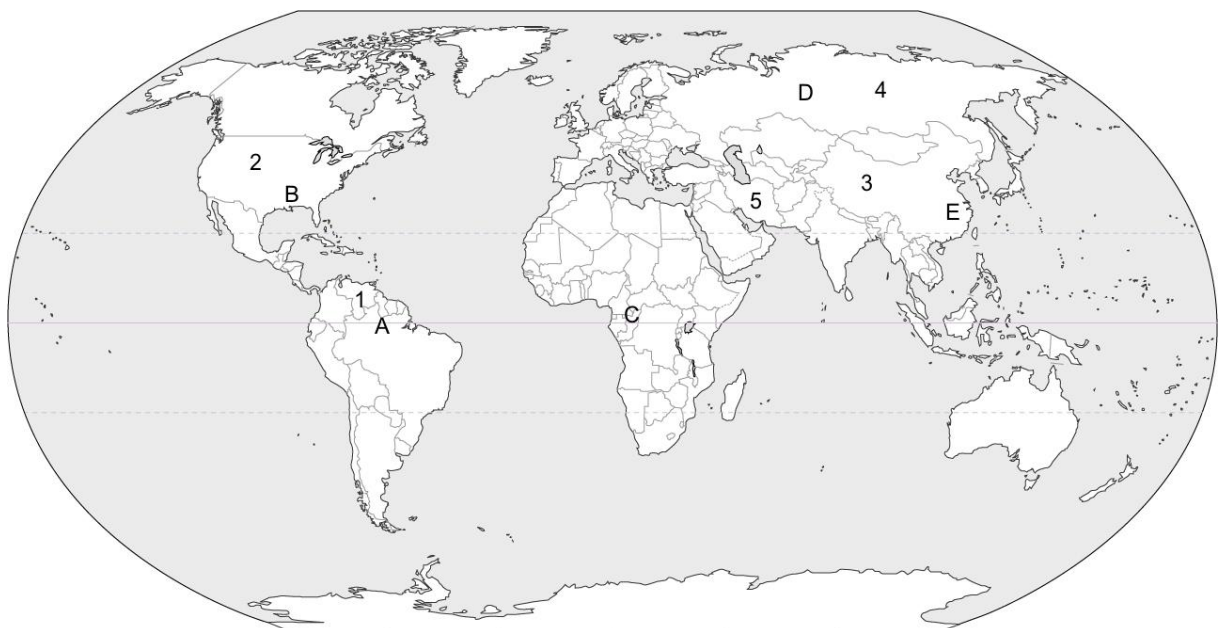
- A –
- B –
- C –
- D –
- E –

Zadanie 8 (5pkt)

Na mapie cyframi od 1 do 5 zaznaczono wyżyny, rozpoznaj je.

- 1 – Wyżyna
- 2 – Wyżyna
- 3 – Wyżyna
- 4 – Wyżyna
- 5 – Wyżyna

Mapa do zadań 7 i 8



Zadanie 9 (4pkt)

Rozpoznaj kontynent na podstawie konturów. Kontury nie są proporcjonalne wielkościowo.



Zadanie 10 (10pkt)

Na mapie Europy rozpoznaj rzeki opisane literami, uzupełnij tabelę.

	Rzeka	Przykładowy kraj przez który płynie
A		
B		
C		
D		
E		



Mapka do zadania nr 10

Zadanie 11 (5pkt)

Strzałki przy literach na mapie wskazują wyspy: Rozpoznaj je.

A -

B -

C -

D -

E -

Zadanie 12 (5pkt)

Zaznacz cyframi na mapie następujące półwyspy: (skorzystaj z mapki do zadania 11).

1 – Półwysep Kamczatka

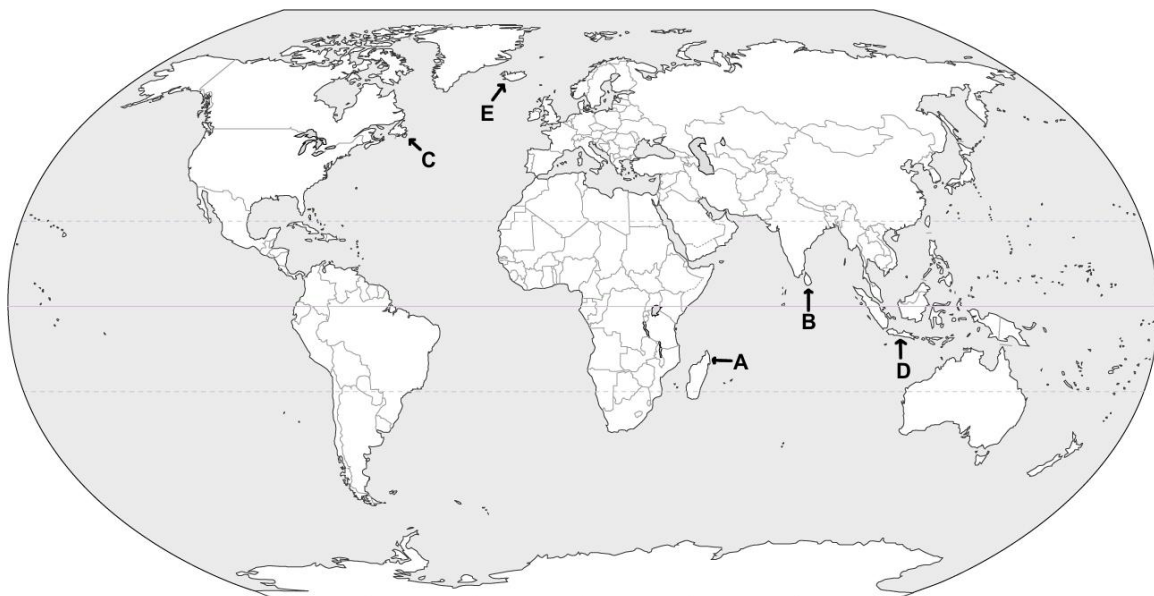
2 – Półwysep Jork

3 – Półwysep Labrador

4 – Półwysep Jukatan

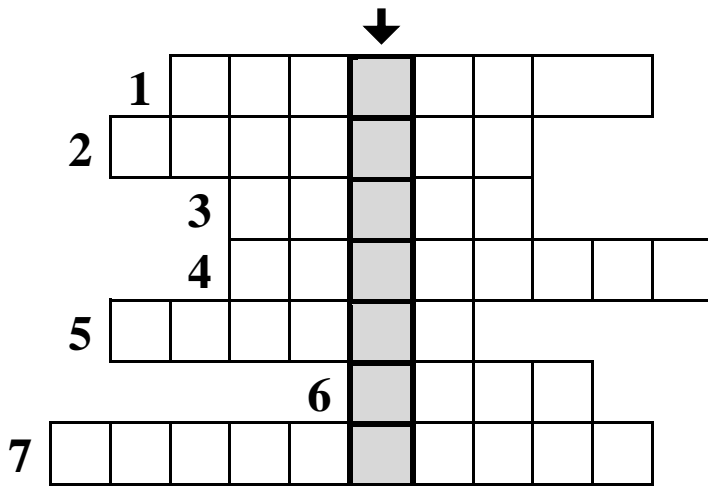
5 – Półwysep Iberyjski

Mapka do zadań 11 i 12



Zadanie 13

Krzyżówka: Rozwiąż krzyżówkę, odgadnij i wyjaśnij hasło.



1. Największe polskie jezioro
2. Najludniejszy kraj Afryki
3. Stolica Japonii
4. Jezioro w Andach
5. Największe miasto Wielkiej Brytanii
6. Wielkie miasto w Egipcie
7. Największa wyspa Afryki

Rozwiązanie krzyżówki:

..... - jest to obszar

.....

.....

.....