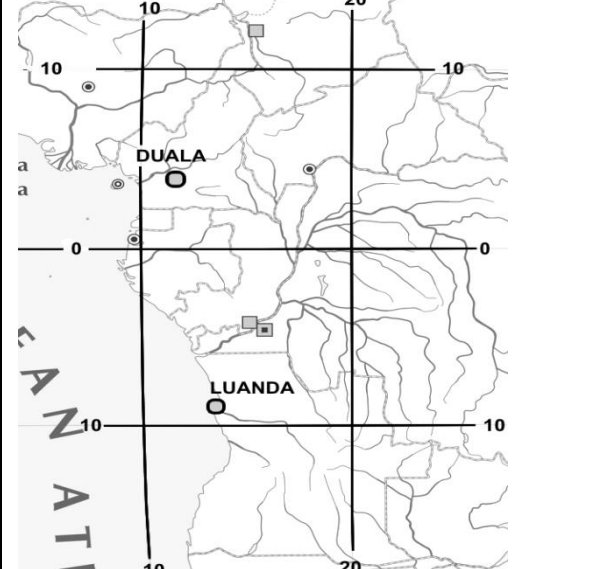


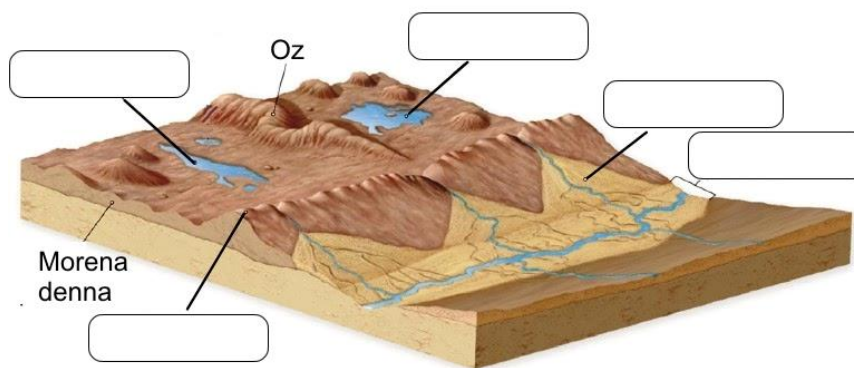
### Zadanie 1 (2pkt)

Określ długość i szerokość geograficzną miasta : Luanda. Wynik zaokrąglj do pełnych stopni.

	<p>Miasto Luanda</p> <p>Szerokość:</p> <p>Długość:</p>
---	--

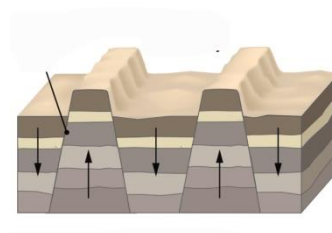
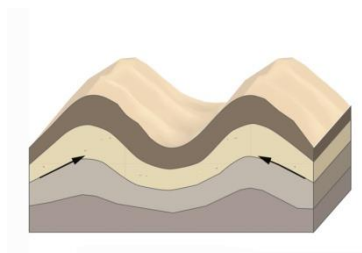
### Zadanie 2 (3pkt)

Podpisz na rysunku następujące formy polodowcowe: morena czołowa, jezioro rynnowe, pradolina.



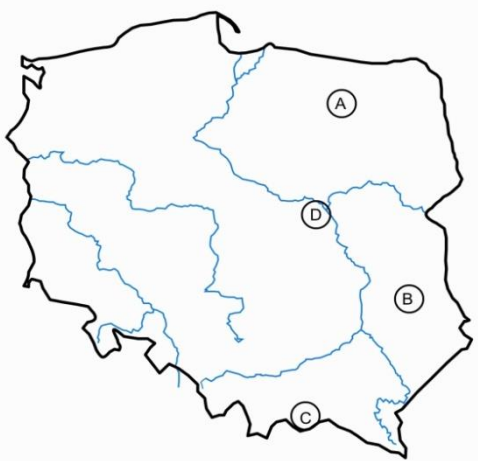
### Zadanie 3 (2pkt)

Rozpoznaj rodzaj gór: zrębowe lub fałdowe?



**Zadanie 4 (4pkt)**

Na mapie zaznaczono literami krainy geograficzne. Rozpoznaj je wpisując obok liter ich nazwy. Wybierz spośród następujących: Karpaty, Sudety, Mazurskie, Wielkopolska, Lubelska, Śląska

	<p>A Pojezierze .....</p> <p>B Wyżyna .....</p> <p>C Góry .....</p> <p>D Nizina .....</p>
---	---

**Zadanie 5 (3pkt)**

Na mapie podpisz kontynenty.



**Zadanie 6 (3pkt)**

Podpisz na mapie sąsiadów Polski.



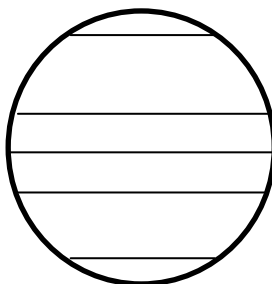
**Zadanie 7 (2pkt)**

Uzupełnij zdanie:

Ruch obiegowy Ziemi trwa ..... a obrotowy .....

**Zadanie 8 (4pkt)**

Zaznacz kreskami na rysunku strefy okołobiegunowe. Podpisz równik i zwrotniki.



**Zadanie 9: (3pkt)**

Następstwami ruchu obiegowego Ziemi są: /skreśl błędne odpowiedzi/

/zmiana długości dnia i nocy/ /dzień i noc/ //występowanie pór roku/ /siła Coriolisa/ / występowanie stref oświetlenia Ziemi/

**Zadanie 10 (2pkt)**

Do podanych dat przyporządkuj określenia: przesilenie zimowe, równonoc jesienna, najdłuższy dzień, początek wiosny

21III	22VI	23IX	22XII

**Zadanie 11 (2pkt)**

Na podstawie opisu rozpoznaj strefę klimatyczną. Napisz która rzymska cyfra odpowiada położeniu tej strefy?

	<p>Opis: Jest to jedna z najcieplejszych stref klimatycznych Ziemi. Charakteryzuje się brakiem pór roku. Padają tam deszcze zenitalne.</p>
--	--

Odpowiedź:




Jest to strefa: ..... Na mapie oznaczono ją cyfrą: .....

**Zadanie 12: (6pkt)**

Do ilustracji przyporządkuj strefę krajobrazowo-roślinną oraz dobierz charakterystyczne zwierzę.

Wybierz spośród następujących: Tundra, Las równikowy, Sawanna, Tajga.

Wybierz spośród zwierząt: wielbłąd, żyrafa, goryl, niedźwiedź brunatny

Ilustracja	Nazwa strefy	Przykładowe zwierzę
		
		
		

**Zadanie 13. (4pkt)**

Przyporządkuj opisy do obiektu: Największa wyspa, Najwyższy szczyt, Największy kraj, Największa rzeka.

Czomolungma	
Rosja	
Amazonka	
Grenlandia	

## Kartoteka testu.

**Punktacja:**

<b>Nr zadania</b>	<b>1</b>	<b>2</b>	<b>3</b>	<b>4</b>	<b>5</b>	<b>6</b>	<b>7</b>	<b>8</b>	<b>9</b>	<b>10</b>	<b>11</b>	<b>12</b>	<b>13</b>
<b>Liczba pkt</b>	<b>2</b>	<b>3</b>	<b>2</b>	<b>4</b>	<b>3</b>	<b>3</b>	<b>2</b>	<b>4</b>	<b>3</b>	<b>2</b>	<b>2</b>	<b>6</b>	<b>4</b>

**Suma: 40pkt**